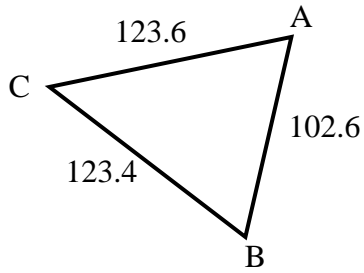


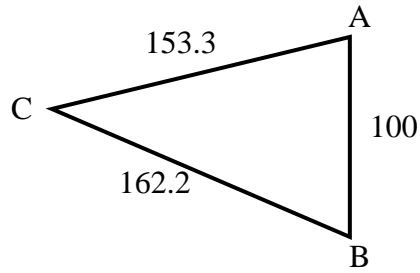


Halla la longitud del lado indicado.

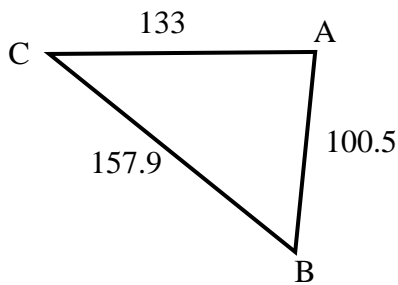
1) Calcula la longitud del lado C.



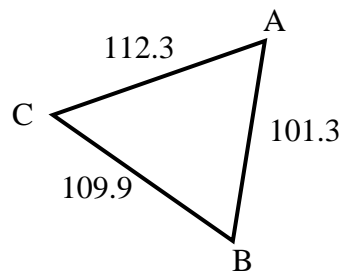
2) Calcula la longitud del lado C.



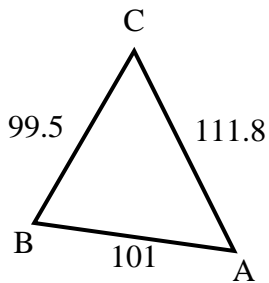
3) Calcula la longitud del lado A.



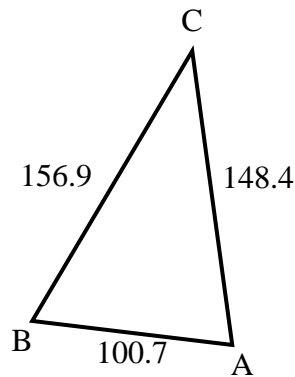
4) Calcula la longitud del lado B.



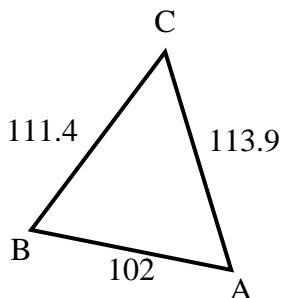
5) Calcula la longitud del lado A.



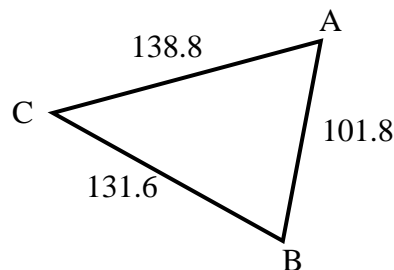
6) Calcula la longitud del lado A.



7) Calcula la longitud del lado A.



8) Calcula la longitud del lado B.



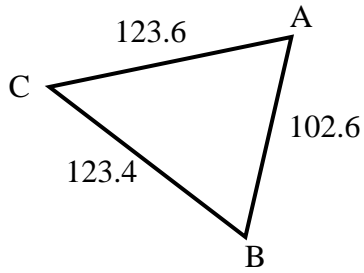
Respuestas

1. _____
2. _____
3. _____
4. _____
5. _____
6. _____
7. _____
8. _____

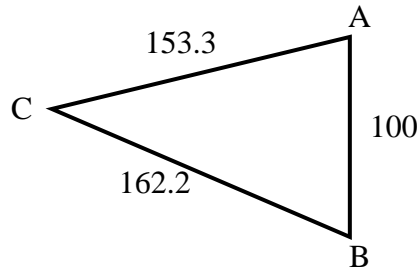


Halla la longitud del lado indicado.

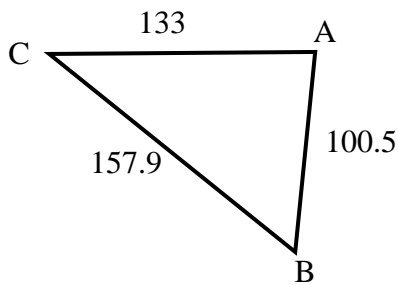
1) Calcula la longitud del lado C.



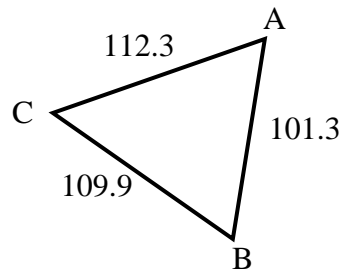
2) Calcula la longitud del lado C.



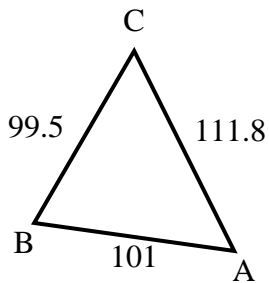
3) Calcula la longitud del lado A.



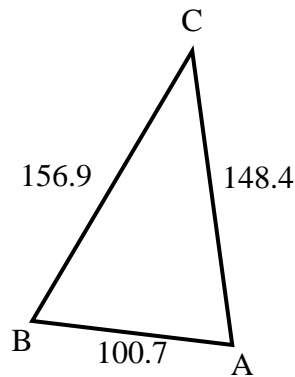
4) Calcula la longitud del lado B.



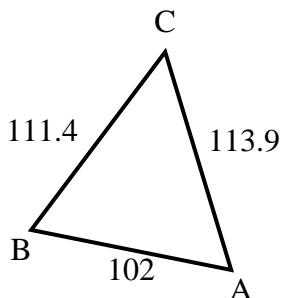
5) Calcula la longitud del lado A.



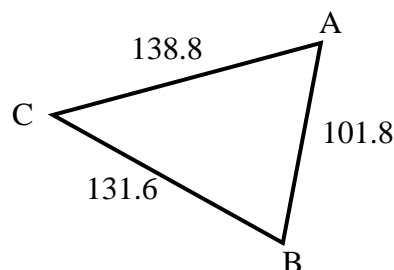
6) Calcula la longitud del lado A.



7) Calcula la longitud del lado A.



8) Calcula la longitud del lado B.



Respuestas

1. **102.6**

2. **100**

3. **157.9**

4. **112.3**

5. **99.5**

6. **156.9**

7. **111.4**

8. **138.8**