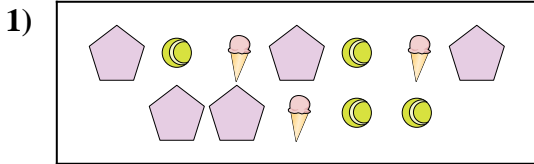





Comparar el número de formas.

Respuestas



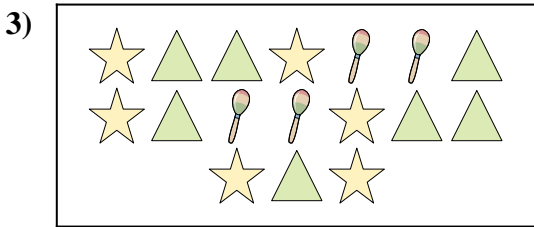
¿Hay menos o menos ?

- A.
- B.




¿Hay más o más ?

- A.
- B.




¿Hay menos o menos ?

- A.
- B.



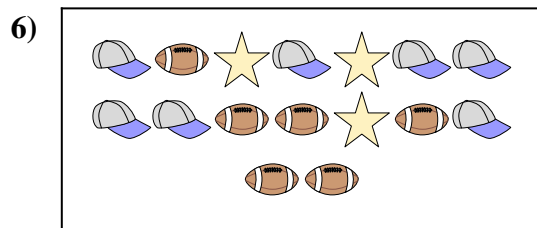
¿Hay menos o menos ?

- A.
- B.



¿Hay menos o menos ?

- A.
- B.



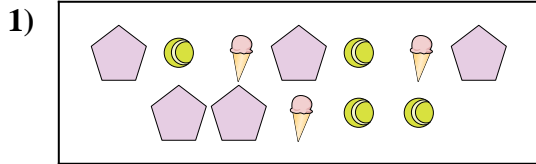
¿Hay menos o menos ?

- A.
- B.

- 1. _____
- 2. _____
- 3. _____
- 4. _____
- 5. _____
- 6. _____




Comparar el número de formas.



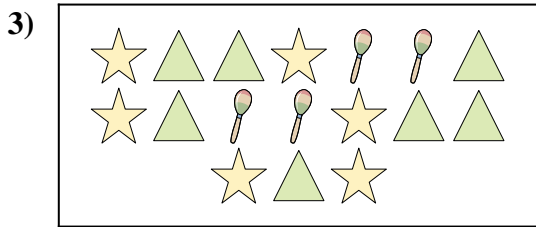
¿Hay menos o menos ?

- A.
- B.




¿Hay más o más ?

- A.
- B.




¿Hay menos o menos ?

- A.
- B.



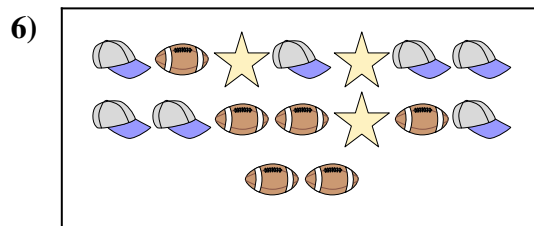
¿Hay menos o menos ?

- A.
- B.



¿Hay menos o menos ?

- A.
- B.



¿Hay menos o menos ?

- A.
- B.

Respuestas

- 1. **A**
- 2. **A**
- 3. **B**
- 4. **B**
- 5. **A**
- 6. **B**