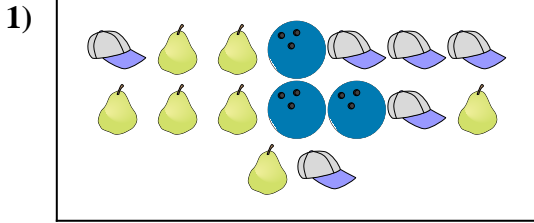







Comparar el número de formas.

Respuestas





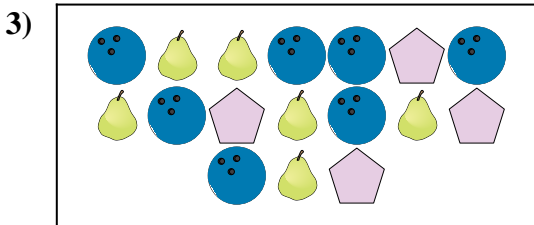
¿Hay menos  o menos  ?

- A. 
- B. 





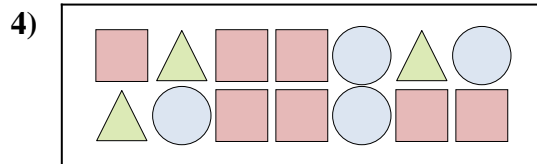
¿Hay menos  o menos  ?



- A. 
- B. 






¿Hay más  o más  ?

- A. 
- B. 






¿Hay más  o más  ?

- A. 
- B. 





¿Hay más  o más  ?

- A. 
- B. 



¿Hay menos  o menos  ?

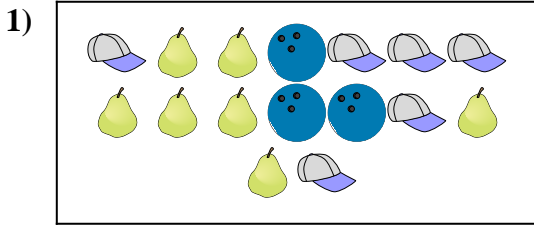
- A. 
- B. 

- 1. \_\_\_\_\_
- 2. \_\_\_\_\_
- 3. \_\_\_\_\_
- 4. \_\_\_\_\_
- 5. \_\_\_\_\_
- 6. \_\_\_\_\_






Comparar el número de formas.

Respuestas





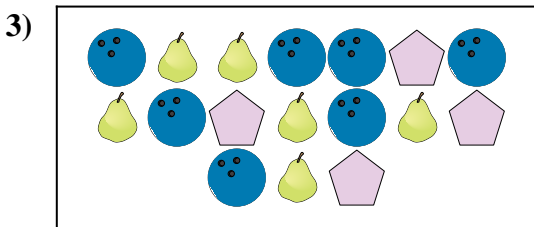
¿Hay menos  o menos  ?

- A. 
- B. 





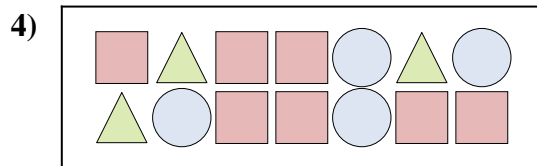
¿Hay menos  o menos  ?



- A. 
- B. 






¿Hay más  o más  ?



- A. 
- B. 






¿Hay más  o más  ?

- A. 
- B. 





¿Hay más  o más  ?

- A. 
- B. 



¿Hay menos  o menos  ?

- A. 
- B. 

- 1.     **B**
- 2.     **A**
- 3.     **A**
- 4.     **A**
- 5.     **A**
- 6.     **A**