




Utilizar los grupos para responder a cada pregunta.

**Respuestas**

- 1) a. ¿Cuántos grupos de 100 hay?  
 b. ¿Cuántos bloques pequeños hay en total?

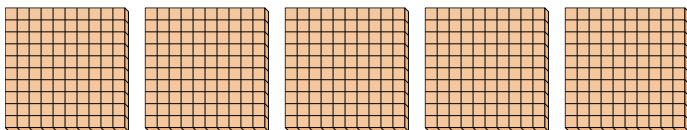


1. \_\_\_\_

2. \_\_\_\_

3. \_\_\_\_

- 2) a. ¿Cuántos grupos de 100 hay?  
 b. ¿Cuántos bloques pequeños hay en total?




4. \_\_\_\_

5. \_\_\_\_


6. \_\_\_\_

- 3) a. ¿Cuántos grupos de 100 hay?  
 b. ¿Cuántos bloques pequeños hay en total?




7. \_\_\_\_

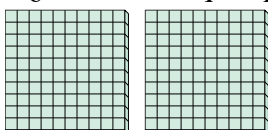
- 4) a. ¿Cuántos grupos de 100 hay?  
 b. ¿Cuántos bloques pequeños hay en total?




- 5) a. ¿Cuántos grupos de 100 hay?  
 b. ¿Cuántos bloques pequeños hay en total?



- 6) a. ¿Cuántos grupos de 100 hay?  
 b. ¿Cuántos bloques pequeños hay en total?



- 7) a. ¿Cuántos grupos de 100 hay?  
 b. ¿Cuántos bloques pequeños hay en total?






Utilizar los grupos para responder a cada pregunta.

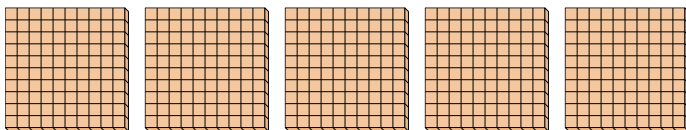
**Respuestas**

- 1) a. ¿Cuántos grupos de 100 hay?  
b. ¿Cuántos bloques pequeños hay en total?



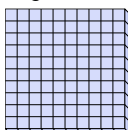
1. **4** **400**

- 2) a. ¿Cuántos grupos de 100 hay?  
b. ¿Cuántos bloques pequeños hay en total?




2. **5** **500**

- 3) a. ¿Cuántos grupos de 100 hay?  
b. ¿Cuántos bloques pequeños hay en total?




3. **1** **100**

- 4) a. ¿Cuántos grupos de 100 hay?  
b. ¿Cuántos bloques pequeños hay en total?



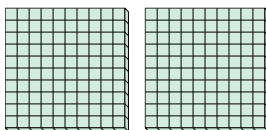
4. **8** **800**

- 5) a. ¿Cuántos grupos de 100 hay?  
b. ¿Cuántos bloques pequeños hay en total?



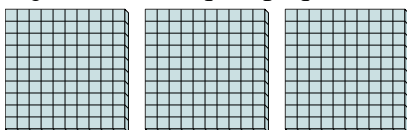
5. **9** **900**

- 6) a. ¿Cuántos grupos de 100 hay?  
b. ¿Cuántos bloques pequeños hay en total?



6. **2** **200**

- 7) a. ¿Cuántos grupos de 100 hay?  
b. ¿Cuántos bloques pequeños hay en total?



7. **3** **300**